

**ERANTZUN-ORRIA**                      **DBHko 2.maila**  
**EBALUAZIO DIAGNOSTIKOA**

**2P1E**

ETIKETA

**UNA CASA CON ENCANTO**

<b>01</b>	<b>A</b> — <b>B</b> — <b>C</b> — <b>D</b>
<b>02</b>	<b>A</b> — <b>B</b> — <b>C</b> — <b>D</b>
<b>03</b>	<b>A</b> — <b>B</b> — <b>C</b> — <b>D</b>
<b>04</b>	<b>A</b> — <b>B</b> — <b>C</b> — <b>D</b>
<b>05</b>	<b>A</b> — <b>B</b> — <b>C</b> — <b>D</b>
<b>06</b>	<b>A</b> — <b>B</b> — <b>C</b> — <b>D</b>
<b>07</b>	<p>Observa la frase <i>“las siete y aquellos pajarracos escandalosos dando la tabarra”</i>. Señala todas las palabras en las que se refleja una opinión de la autora.</p> <p>-----</p> <p>-----</p>
<b>08</b>	<b>A</b> — <b>B</b> — <b>C</b> — <b>D</b>



## ALKOHOLA ETA JOLASA

09



10



11

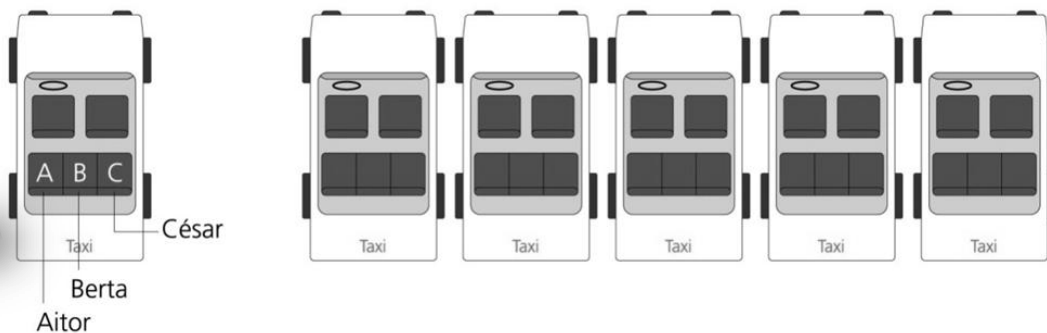
Adieraz ezazu **zeintzuek** duten **izaera hezgarria** (ez edatearen abantailak erakusten saiatzen dira) eta **zeintzuk oinarritzen diren zigortzean**:

	NEURRI HEZGARRIA	ZIGOR-NEURRIA
a. Asteburuetan alkohola edaten duten gazteak kartzelan sartzea.	<input type="checkbox"/>	<input type="checkbox"/>
b. Gazteen familiekin hitz egitea, gazteen artean ohitura osasungarriak zabaltzen laguntzeko.	<input type="checkbox"/>	<input type="checkbox"/>
c. Udala, anbulatorioa eta ikastetxea inplikatzeko konponbideak bilatzeko.	<input type="checkbox"/>	<input type="checkbox"/>
d. Herriko gazteak bildu eta galdetzea zein astialdirako aktibitateak egin nahi dituzten asteburuetan.	<input type="checkbox"/>	<input type="checkbox"/>
e. Familiak gazteak salatzerara eta zigortzera behartzea.	<input type="checkbox"/>	<input type="checkbox"/>

## ESKOLA LEHIAKETA

12

Gainerako bost moduak osatu:



1			
2			
3			
4			
5			

13

## Zenbat neurtzen du karratuaren aldeak?

Problema ebatzi eta adierazi egin dituzun eragiketak eta emaitza.

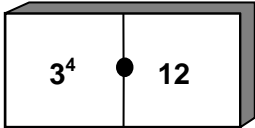
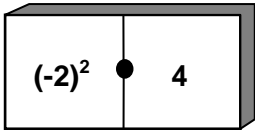
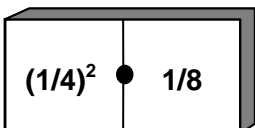
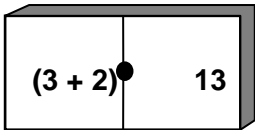
Eragiketak:


Emaitza: \_\_\_\_\_

14

## Osatu hurrengo esaldi hauek, bakoitzean gertatzen den egoera-aldaketaren izena aipatuz:

Hurrengo baieztapenak egiazkoak ala gezurrezkoak diren adierazi:

		Egiazkoa	Gezurrezkoa
A. 	$3^4$ berdin 12	<input type="checkbox"/>	<input type="checkbox"/>
B. 	$(-2)^2$ berdin 4	<input type="checkbox"/>	<input type="checkbox"/>
C. 	$(1/4)^2$ berdin $1/8$	<input type="checkbox"/>	<input type="checkbox"/>
D. 	$(3 + 2)^2$ berdin 13	<input type="checkbox"/>	<input type="checkbox"/>

15

22 eta 100 bitarteko zenbaki bakoiti guztiak idazten badituzu, zenbat aldiz idatziko duzu 6 zenbakia?

Buruketa ebatzi, zure arrazoiketak eta emaitza adieraziz.

Eragiketak:


Emaitza: \_\_\_\_\_

### SANTO TOMAS AZOKA

16



17



18



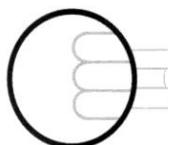
19



20



21



ISEI-IVEI

22

**EGIA ALA FALTSUA? Markatu "X" batez laukitxo egokia, adibidean bezala:**

	EGIA	FALTSUA
0. Santo Tomas feriaz ari dira testu honetan.	<input checked="" type="checkbox"/>	<input type="checkbox"/>
a) San Martin egunean ordaintzen zen arren lurraren errenta, Santo Tomas egunera arte luzatu ohi zen.	<input type="checkbox"/>	<input type="checkbox"/>
b) Santo Tomas eguna urteen arabera aldatu egiten da, Aste Santua bezala.	<input type="checkbox"/>	<input type="checkbox"/>
c) Abenduaren 21ean da Santo Tomas eta egun horretan egiten da feria.	<input type="checkbox"/>	<input type="checkbox"/>
d) Santo Tomas egunean baserritarrak hirira joaten ziren nagusiari lur-sailen errentak ordaintzera.	<input type="checkbox"/>	<input type="checkbox"/>
e) Santo Tomas egunean produktuen salerosketa egiten zen.	<input type="checkbox"/>	<input type="checkbox"/>
f) Feriak gaur egunera arte iraun du baserritarrek tradizio zaharra mantendu baitute.	<input type="checkbox"/>	<input type="checkbox"/>

23



**MILA ESKER ZURE LANAGATIK**

