

HOJA DE RESPUESTAS 2º ESO EVALUACIÓN DIAGNÓSTICA

2P1G

ETIQUETA

UNA CASA CON ENCANTO

| | |
|----|---|
| 01 | <input type="checkbox"/> A — <input type="checkbox"/> B — <input type="checkbox"/> C — <input type="checkbox"/> D |
| 02 | <input type="checkbox"/> A — <input type="checkbox"/> B — <input type="checkbox"/> C — <input type="checkbox"/> D |
| 03 | <input type="checkbox"/> A — <input type="checkbox"/> B — <input type="checkbox"/> C — <input type="checkbox"/> D |
| 04 | <input type="checkbox"/> A — <input type="checkbox"/> B — <input type="checkbox"/> C — <input type="checkbox"/> D |
| 05 | <input type="checkbox"/> A — <input type="checkbox"/> B — <input type="checkbox"/> C — <input type="checkbox"/> D |
| 06 | <input type="checkbox"/> A — <input type="checkbox"/> B — <input type="checkbox"/> C — <input type="checkbox"/> D |
| 07 | <p>Observa la frase <i>“las siete y aquellos pajarracos escandalosos dando la tabarra”</i>. Señala todas las palabras en las que se refleja una opinión de la autora.</p> <p>-----</p> <p>-----</p> |
| 08 | <input type="checkbox"/> A — <input type="checkbox"/> B — <input type="checkbox"/> C — <input type="checkbox"/> D |



ALCOHOL Y DIVERSIÓN

09



10



11

Indica qué **medidas** tienen **carácter educativo** (intentan convencer de los beneficios de no beber) y **cuáles se basan en castigar**:

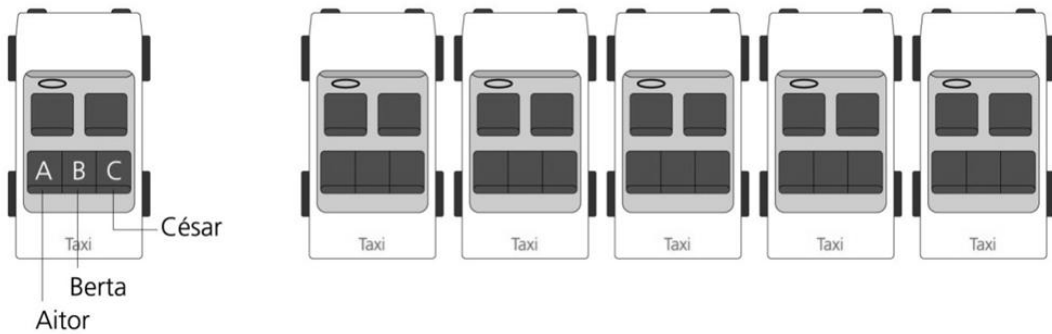


| | MEDIDA EDUCATIVA | MEDIDA DE CASTIGO |
|--|--------------------------|--------------------------|
| a. Meter a la cárcel a los jóvenes que beben los fines de semana. | <input type="checkbox"/> | <input type="checkbox"/> |
| b. Hablar con las familias de los jóvenes para que ayuden a difundir hábitos saludables entre los jóvenes. | <input type="checkbox"/> | <input type="checkbox"/> |
| c. Implicar al ayuntamiento, al ambulatorio y a la escuela para buscar soluciones. | <input type="checkbox"/> | <input type="checkbox"/> |
| d. Reunir a los jóvenes del pueblo y preguntarles qué actividades de tiempo libre quieren hacer los fines de semana. | <input type="checkbox"/> | <input type="checkbox"/> |
| e. Obligar a las familias a que denuncien y castiguen a los jóvenes. | <input type="checkbox"/> | <input type="checkbox"/> |

CONCURSO ESCOLAR

12

Completa en el esquema las otras cinco maneras:




| | | | |
|---|--|--|--|
| 1 | | | |
| 2 | | | |
| 3 | | | |
| 4 | | | |
| 5 | | | |

13

¿Cuánto mide el lado del cuadrado?

Resuelve el problema, expresando las operaciones que haces y la solución.

Operaciones:

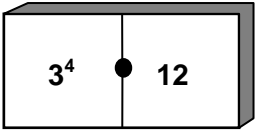
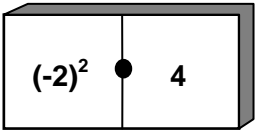
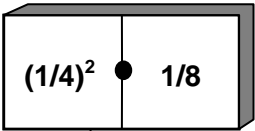
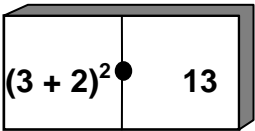


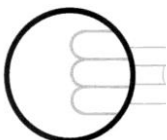
Solución: _____

14

Queremos comparar los números que aparecen en cuatro fichas de dominó.

Analiza si las siguientes afirmaciones son verdaderas o falsas:

| | | Verdadero | Falso | |
|----|---|---------------------------|--------------------------|--------------------------|
| A. |  | 3^4 es igual a 12 | <input type="checkbox"/> | <input type="checkbox"/> |
| B. |  | $(-2)^2$ es igual a 4 | <input type="checkbox"/> | <input type="checkbox"/> |
| C. |  | $(1/4)^2$ es igual a 1/8 | <input type="checkbox"/> | <input type="checkbox"/> |
| D. |  | $(3 + 2)^2$ es igual a 13 | <input type="checkbox"/> | <input type="checkbox"/> |



ISEI-IVEI

15

Si escribes todos los números impares entre el 22 y el 100, ¿cuántas veces escribes el número 6?

Resuelve el problema, expresando tus razonamientos y la solución.

Operaciones:

Solución: _____

SANTO TOMAS AZOKA

| | | | | |
|----|---|---|---|---|
| 16 | A | B | C | D |
| 17 | A | B | C | D |
| 18 | A | B | C | D |
| 19 | A | B | C | D |
| 20 | A | B | C | D |
| 21 | A | B | C | D |

22

EGIA ALA FALTSUA? Markatu "X" batez laukitxo egokia, adibidean bezala:

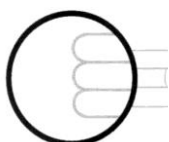


| | EGIA | FALTSUA |
|---|-------------------------------------|--------------------------|
| 0. Santo Tomas feriaz ari dira testu honetan. | <input checked="" type="checkbox"/> | <input type="checkbox"/> |
| a) San Martin egunean ordaintzen zen arren lurraren errenta, Santo Tomas egunera arte luzatu ohi zen. | <input type="checkbox"/> | <input type="checkbox"/> |
| b) Santo Tomas eguna urteen arabera aldatu egiten da, Aste Santua bezala. | <input type="checkbox"/> | <input type="checkbox"/> |
| c) Abenduaren 21ean da Santo Tomas eta egun horretan egiten da feria. | <input type="checkbox"/> | <input type="checkbox"/> |
| d) Santo Tomas egunean baserritarrak hirira joaten ziren nagusiari lur-sailen errentak ordaintzera. | <input type="checkbox"/> | <input type="checkbox"/> |
| e) Santo Tomas egunean produktuen salerosketa egiten zen. | <input type="checkbox"/> | <input type="checkbox"/> |
| f) Feriak gaur egunera arte iraun du baserritarrek tradizio zaharra mantendu baitute. | <input type="checkbox"/> | <input type="checkbox"/> |

23



GRACIAS POR TU ESFUERZO



ISEI-IVEI