

# HOJA DE RESPUESTAS 4º E. PRIMARIA

## EVALUACIÓN DIAGNÓSTICA

4P1G

ETIQUETA

### AULAS DEL MUNDO

01

A — B — C — D

02

A — B — C — D

03

A — B — C — D

04

A — B — C — D

05

A — B — C — D

06

Indica dos diferencias entre el edificio de tu escuela y los que aparecen reflejados en el texto. Utiliza la información del texto.

1ª Diferencia.....

.....

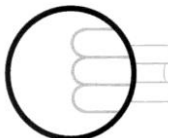
2ª Diferencia.....

.....

07

Relaciona cada una de las frases con el país que le corresponde.

ECUADOR	
UCRANIA	
EGIPTO	
INDIA	



ISEI-IVEI

## LOS DERECHOS DE LOS NIÑOS Y LAS NIÑAS

08



09



10

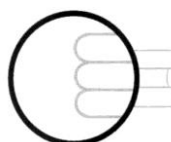
Piensa en cómo vives tú. ¿Estás de acuerdo con las frases siguientes? (Responde **SÍ** o **NO**).

	SÍ	NO
a. Tengo derecho a ir a la escuela por lo menos hasta terminar la enseñanza obligatoria.	<input type="checkbox"/>	<input type="checkbox"/>
b. Tengo derecho a ir a la escuela a la hora que yo quiera.	<input type="checkbox"/>	<input type="checkbox"/>
c. Tengo derecho a dar mi opinión en clase.	<input type="checkbox"/>	<input type="checkbox"/>
d. Tengo derecho a cruzar la calle con el semáforo en rojo.	<input type="checkbox"/>	<input type="checkbox"/>
e. Tengo derecho a insultar a los demás.	<input type="checkbox"/>	<input type="checkbox"/>
f. Tengo derecho a que me atienda un médico cuando enfermo.	<input type="checkbox"/>	<input type="checkbox"/>
g. Tengo derecho a que mis padres me compren todo lo que les pido.	<input type="checkbox"/>	<input type="checkbox"/>

11

En la tabla siguiente, en la columna de la izquierda, aparecen unas frases sobre situaciones que se dan en el mundo. En las columnas de la derecha aparecen los 4 derechos de la infancia. En cada una de las situaciones, ¿cuál es el **derecho que NO se respeta**? Señálalo con una **X**.

SITUACIONES QUE OCURREN EN EL MUNDO	DERECHOS			
	1 Tener comida y médico	2 Ir a la escuela	3 Dar opinión	4 No sufrir malos tratos
a. Cada año mueren más de 9 millones de niños y niñas porque no tienen médico.	<input type="checkbox"/>	<input type="checkbox"/>	<input type="checkbox"/>	<input type="checkbox"/>
b. 93 millones de niños y niñas no pueden ir a la escuela.	<input type="checkbox"/>	<input type="checkbox"/>	<input type="checkbox"/>	<input type="checkbox"/>
c. 126 millones de niños y niñas son obligados a trabajar.	<input type="checkbox"/>	<input type="checkbox"/>	<input type="checkbox"/>	<input type="checkbox"/>
d. No se escucha lo que la mayoría de los niños y niñas piensan.	<input type="checkbox"/>	<input type="checkbox"/>	<input type="checkbox"/>	<input type="checkbox"/>



ISEI-IVEI

12

¿Para qué crees que utilizarán el dinero que da la gente? Da tu opinión (indica **SÍ** o **NO**).

	SÍ	NO
a. Para comprar medicamentos y vacunas para los niños y niñas de los países pobres.	<input type="checkbox"/>	<input type="checkbox"/>
b. Para enviar alimentos a países ricos.	<input type="checkbox"/>	<input type="checkbox"/>
c. Para enviar material escolar (sillas, mesas, libros...) a las escuelas de los países necesitados.	<input type="checkbox"/>	<input type="checkbox"/>
d. Para comprar pastillas para limpiar el agua y que puedan beberla en países donde no se puede beber.	<input type="checkbox"/>	<input type="checkbox"/>
e. Para comprar televisiones y videojuegos para los países pobres.	<input type="checkbox"/>	<input type="checkbox"/>

## EL PUEBLO DE MARIO Y ROSE

13



14



15

¿Cuánto dinero se ha gastado el Ayuntamiento en total en los bancos y maceteros?

Resuelve el problema, expresando las operaciones que haces y la solución.

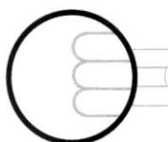
Operaciones:

Solución: \_\_\_\_\_

**ZER DEMONTRE OTE DA "GPS" A?**

<b>16</b>	<b>A</b> — <b>B</b> — <b>C</b> — <b>D</b>
<b>17</b>	<b>A</b> — <b>B</b> — <b>C</b> — <b>D</b>
<b>18</b>	<b>A</b> — <b>B</b> — <b>C</b> — <b>D</b>
<b>19</b>	<b>A</b> — <b>B</b> — <b>C</b> — <b>D</b>
<b>20</b>	<b>A</b> — <b>B</b> — <b>C</b> — <b>D</b>
<b>21</b>	<b>A</b> — <b>B</b> — <b>C</b> — <b>D</b>
<b>22</b>	<b>A</b> — <b>B</b> — <b>C</b> — <b>D</b>

**GRACIAS POR TU ESFUERZO**



ISEI-IVEI